

ورقة عمل في الوحدة السابعة (القياس) - مادة الرياضيات

الصف الرابع الأساسي - الفصل الدراسي الثاني

سؤال ؟

اختر وحدة القياس الأنسب وضعها في :

- أ) المسافة بين عمّان والطفيلة (د) كتلة جمل
- ب) مساحة محافظة كبيرة (هـ) سعة صهريج نفط
- ج) سرعة باص سياحي (و) مدة مباراة كرة سلة

سؤال ؟

ضع العدد المناسب في لتصبح العبارة صحيحة :

- أ) 6 كم = م (د) 9 طن = كغم
- ب) 30 سم = دسم (هـ) 28 لتر = مل
- ج) 2500 م² = دونم (و) ساعة وربع = دقيقة

سؤال ؟

جد ناتج كل مما يأتي:

- أ) 4 لتر + 2500 مل = مل (د) 8 م - 60 دسم = دسم
- ب) 8 كغ - 3000 غم = غم (هـ) 200 سم ÷ 2 مم = سم
- ج) 5 دسم × 2 دسم = سم (و) 3 طن + 2000 كغ = كغ

سؤال ؟

قارن بين كل مما يأتي بوضع إشارة < > = بين كل مما يأتي:

أ) 5 سم 5 دسم د) 10 طن 10000 كغ

ب) 550 مل 4 لتر هـ) 2300 م² 32000 دونم

ج) 90 دقيقة ساعة ونصف و) 2000 غم 1 كغ

سؤال ؟

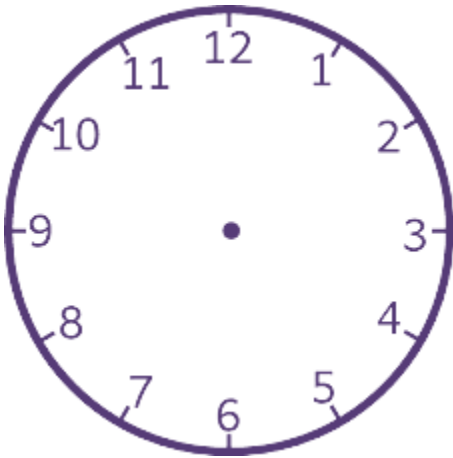
قاعة احتفالات مستطيلة الشكل طولها 16 م ، وعرضها 8 م ، اوجد كل مما يأتي :

أ) محيط القاعة :
متنديات صقر الجنوب

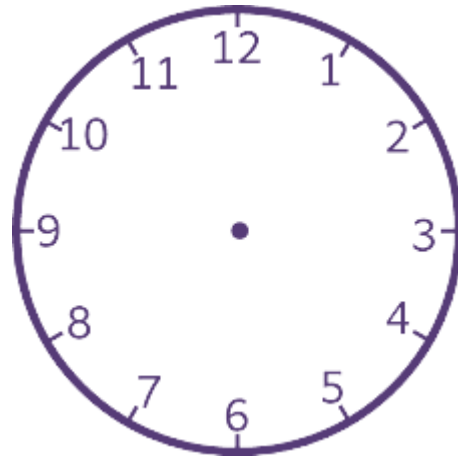
ب) مساحتها :

سؤال ؟

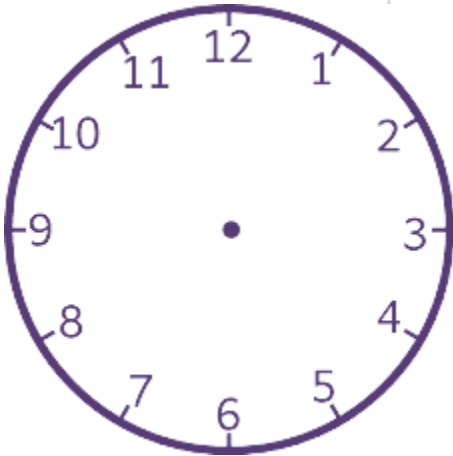
أرسم عقارب الساعة في الأشكال التالية :



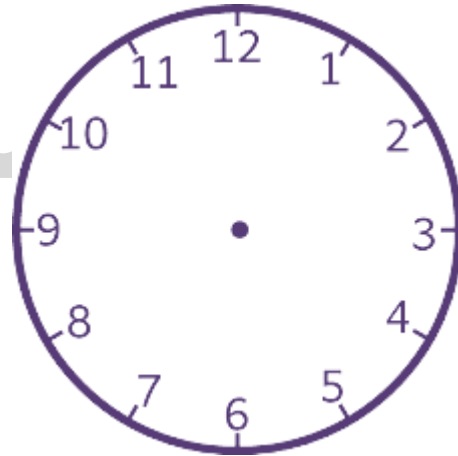
السادسة إلا ربع



الرابعة والنصف



الواحدة و 20 دقيقة



الثامنة وخمسة وثلاثون دقيقة

سار عمر مسافة 2 كم في 15 دقيقة وسارت أخته نفس المسافة في 20 دقيقة، أي
الاخوين اسرع ؟ ولماذا

سؤال ؟

انتهت ورقة العمل ،،



بالتوفيق أحبتي الصغار



منتديات صفر الجنوب